

2

Turystyka

Cele lekcji: Poznasz rodzaje turystyki wyróżnione ze względu na cel wyjazdu. Poznasz walory przyrodnicze i kulturowe Polski oraz swojego regionu. Dowiesz się, które obiekty w Polsce zostały wpisane na „Listę światowego dziedzictwa UNESCO”.



Rozwiąż
dodatkowe
zadania
docwiczenia.pl
Kod: N7DXYX

Na dobry początek

1 Do każdego z wymienionych rodzajów turystyki dopisz przykładowy cel wyjazdu według wzoru.

A. Turystyka biznesowa: uczestnictwo w międzynarodowych targach żeglarskich.

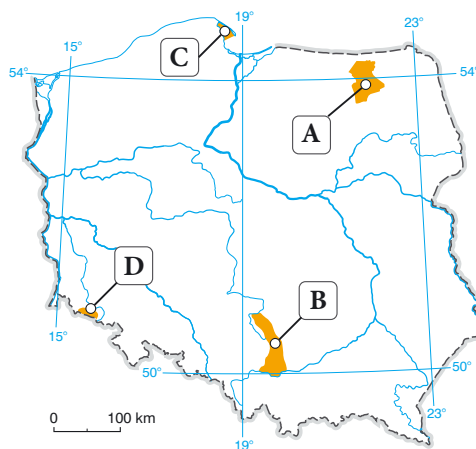
B. Turystyka lecznicza: _____

C. Turystyka wypoczynkowa: _____

D. Turystyka poznawcza: _____

2 Na mapie Polski literami (A–D) zaznaczono cztery obszary, na których występują bardzo dobre warunki do uprawiania określonych rodzajów turystyki. Pod mapą umieszczono nazwy tych obszarów oznaczone numerami (I–V).

Uzupełnij tabelę. Wpisz literę (A–D) odpowiadającą obszarowi, na którym panują najlepsze warunki do uprawiania danego rodzaju turystyki, oraz numer (I–IV) odpowiadający nazwie tego obszaru.



Lp.	Rodzaj turystyki	Litera na mapie	Nazwa obszaru
1.	żeglarstwo		
2.	narciarstwo		
3.	wspinaczka skałkowa		
4.	windsurfing		

- I. Wyżyna Krakowsko-Częstochowska.
- II. Karkonosze.
- III. Kraina Wielkich Jezior Mazurskich.
- IV. Zatoka Pucka.

3 Podkreśl żółtym kolorem walory przyrodnicze naszego kraju, a niebieskim – jego walory kulturowe.

*wydmy w Słowińskim Parku Narodowym, kopalnia soli w Wieliczce,
Muzeum Powstania Warszawskiego, przełom Dunajca w Pieninach,
zamek krzyżacki w Malborku, Tatry, wyspa Wolin, Jarmark Dominikański*

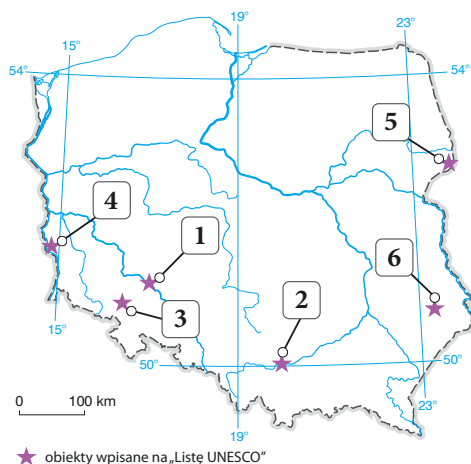
4 Wymień po trzy walory przyrodnicze i kulturowe województwa lub powiatu, w którym mieszkasz.

Walory przyrodnicze: _____

Walory kulturowe: _____

5 Na mapie konturowej Polski numerami 1–6 oznaczono wybrane obiekty wpisane na „Listę światowego dziedzictwa UNESCO”. Na fotografiach przedstawiono charakterystyczne elementy trzech z tych obiektów.

Zapisz pod fotografiami nazwy obiektów oraz numery, którymi oznaczono je na mapie.




A.



B.

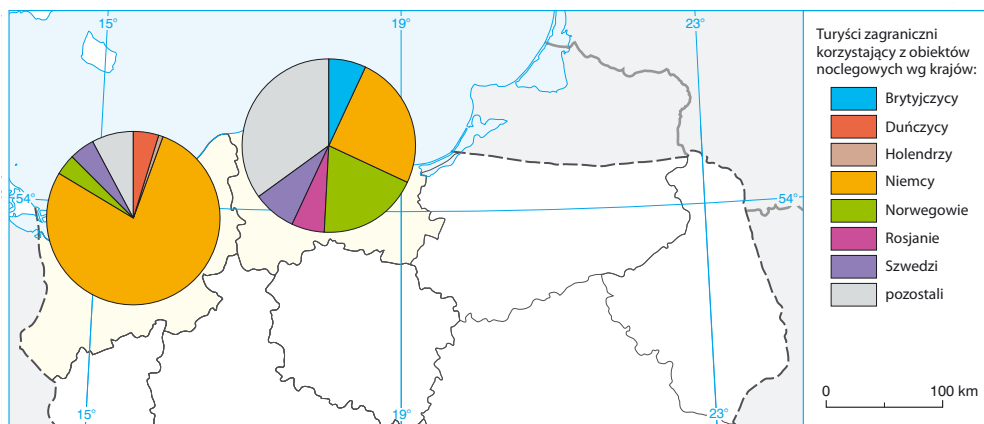


C.



Dla dociekliwych

Polscy turyści najczęściej wypoczywają nad Bałtykiem. Przyciągają ich tam szerokie, piaszczyste plaże, liczne imprezy kulturalne oraz dobrze rozwinięta infrastruktura turystyczna. Na wzrost liczby przyjazdów wpływają również rozwój sieci transportowej oraz niestabilna sytuacja polityczna w takich krajach jak Turcja czy Egipt. Nad Bałtyk przybywa coraz więcej turystów z zagranicy, np. z Niemiec.



6 Na podstawie tekstu oraz mapy wykonaj polecenia

a) Na podstawie mapy oceń prawdziwość podanych informacji. Wybierz P, jeśli informacja jest prawdziwa, lub F, jeśli jest fałszywa.

1.	Największą grupę turystów zagranicznych, którzy skorzystali z obiektów noclegowych w podanych województwach w 2015 roku, stanowili Niemcy.	P	F
2.	W 2015 roku w województwie pomorskim Niemcy i Norwegowie stanowili więcej niż połowę turystów korzystających z obiektów noclegowych.	P	F

b) Podaj trzy czynniki, które wpływają na wzrost liczby turystów wypoczywających nad Bałtykiem.

- _____
- _____
- _____

Zapamiętaj!

- Wśród głównych walorów turystycznych Polski należy wymienić: zróżnicowany krajobraz, czyste środowisko wielu regionów, liczne zabytki historyczne oraz imprezy kulturalne.
- W naszym kraju znajduje się 15 obiektów wpisanych na „Listę światowego dziedzictwa UNESCO”.